

Corumbá – MS, 13 de Abril de 2020.

Disciplina: Ciências / 8º ano A, B e C. Ensino Fundamental II.

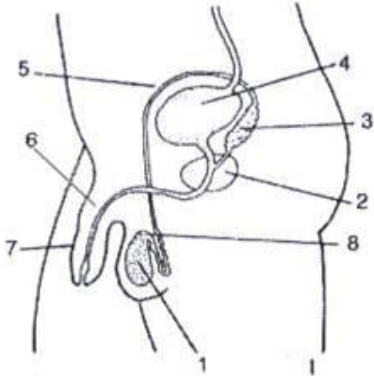
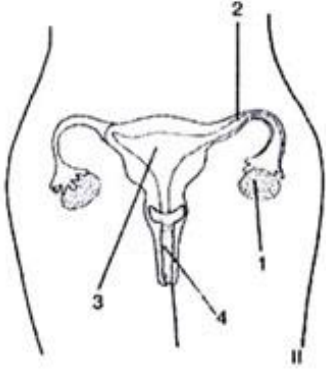
Professora: Elizangela Gomes da Silva / Contato: 99245-9717 / E-mail: kizielli@gmail.com

CIÊNCIAS/ 8º ANO - Desenvolva as atividades propostas

1. Explique a função da Reprodução dos seres vivos.

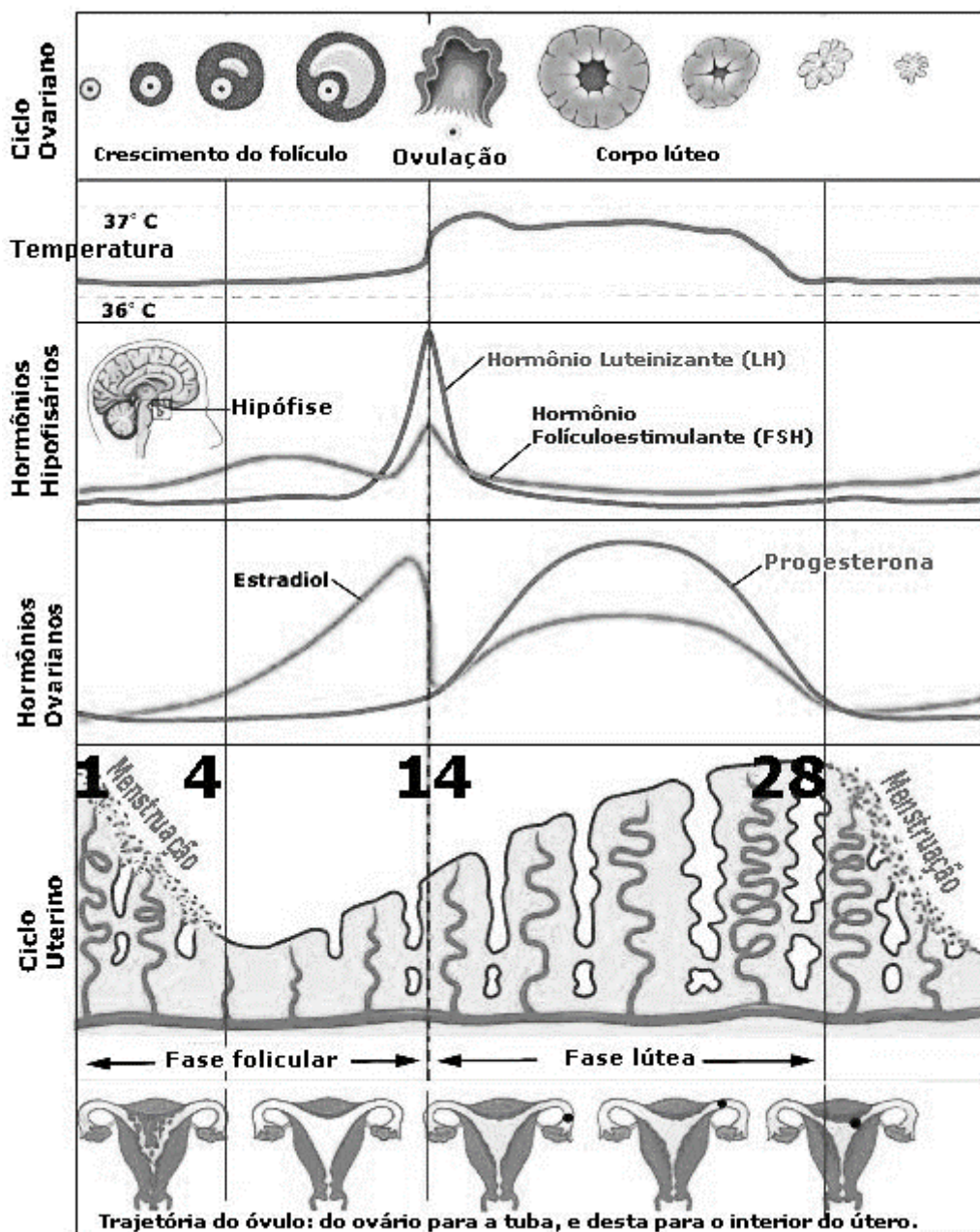
2. Explique as funções dos Sistemas Genitais Masculino e Feminino.

3. Identifique cada órgão numerado dos S.G. Masculino e Feminino e depois suas escreva suas respectivas funções.

Sist. Gen. Masculino	Sist. Gen. Feminino
	
Funções	

4. Explique as diferenças entre Reprodução Assexuada e Sexuada.

5. Observe a imagem seguinte que representa a ação hormonal no ciclo menstrual e com base no texto das páginas 60 e 61 e também na vídeo aula do capítulo 3 (parte 2) responda as questões seguintes.



A) Quais são os hormônios que controlam o ciclo menstrual? _____

B) Explique como o FSH e o LH atuam no ciclo menstrual.

C) Explique como o Estradiol e a progesterona agem no ciclo menstrual.

BONS ESTUDOS!